


P4. Welche der abgebildeten Seemannsflaggen

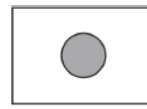
- a) sind achsensymmetrisch,
- b) besitzen mehr als eine Symmetrieachse,
- c) sind punktsymmetrisch?



(1)




(2)



(3)



(4)



(5)

P8. Gib für den Umfang und den Flächeninhalt der nebenstehenden Figur jeweils einen Term an und fasse soweit wie möglich zusammen.

